



Проект программы развития системы образования Петроградского района
"Творческая среда и интеллектуально одаренные дети"



Олимпиада по математике

Подготовили ученики
ГБОУ СОШ № 47 им. Д.С.
Лихачёва


декабрь 2025 года

Головоломка №1

Эту головоломку подготовила ученица 3 класса Бережкова Варвара.

Головоломка заключается в том, что вам необходимо соединить кружечек, цифру и квадрат с нужным количеством.

Иллюстрация к головоломке № 1

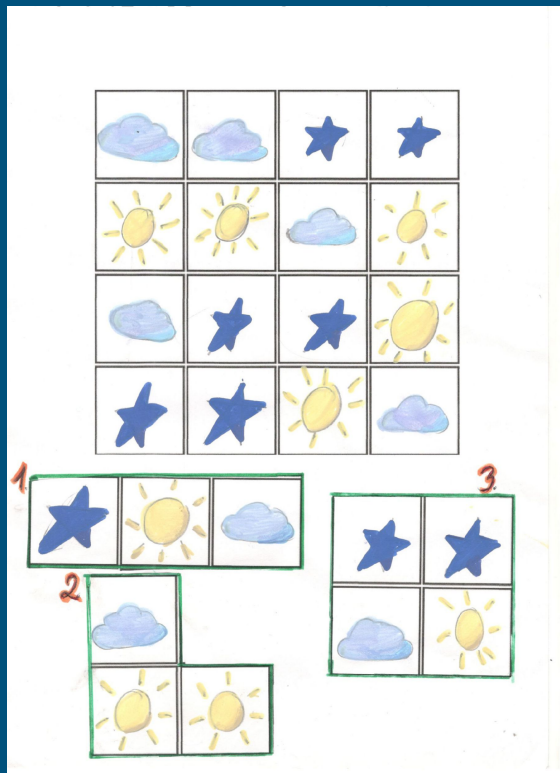


Головоломка №2

Эту головоломку подготовила ученица 3 класса Воробьева Надя.

Головоломка заключается в том, что вам необходимо найти нужные кусочки на картинке, обвести их и подписать соответствующую цифру.

Иллюстрация к головоломке № 2




Головоломка №3

Эту головоломку подготовил ученик 3 класса Степанов Егор.

Головоломка заключается в том, что вам необходимо посчитать геометрические фигуры в квадрате и записать правильный ответ в пустые клетки.

Иллюстрация к головоломке № 3



























Головоломка №4

Эту головоломку подготовила ученица 1 класса Задорожная Мария.

Головоломка заключается в том, что вам необходимо решить вкусные примеры, используя подсказку слева.

Иллюстрация к головоломке № 4

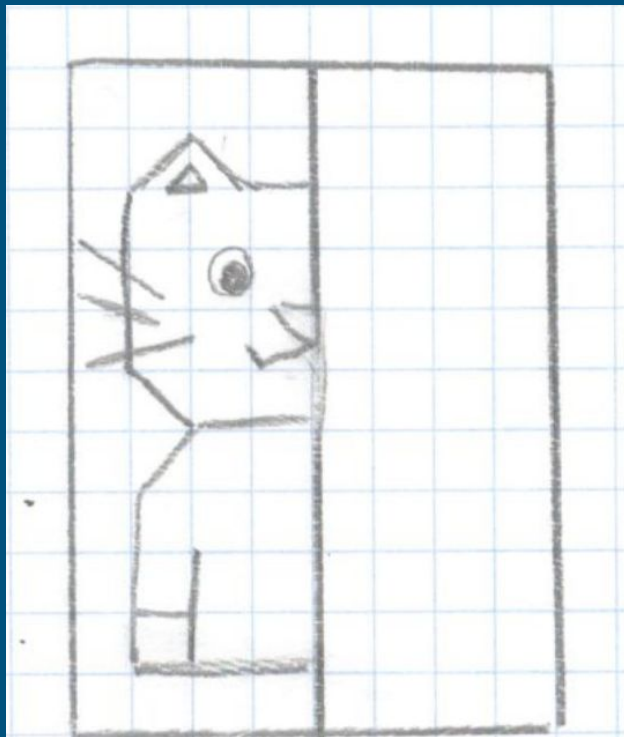
 = 3	1.		+		=	<input type="text"/>
 = 6	2.		+		=	<input type="text"/>
 = 4	3.		-		=	<input type="text"/>
 = 2	4.		+		=	<input type="text"/>
 = 5	5.		+		=	<input type="text"/>
 = 7	6.		+		=	<input type="text"/>
 = 1	7.		-		=	<input type="text"/>
 = 8						
 = 10						
 = 9						

Головоломка №5

Эту головоломку подготовила ученица 3 класса Крылова София.

Головоломка заключается в том, что вам необходимо продолжить рисунок.

Иллюстрация к головоломке № 5

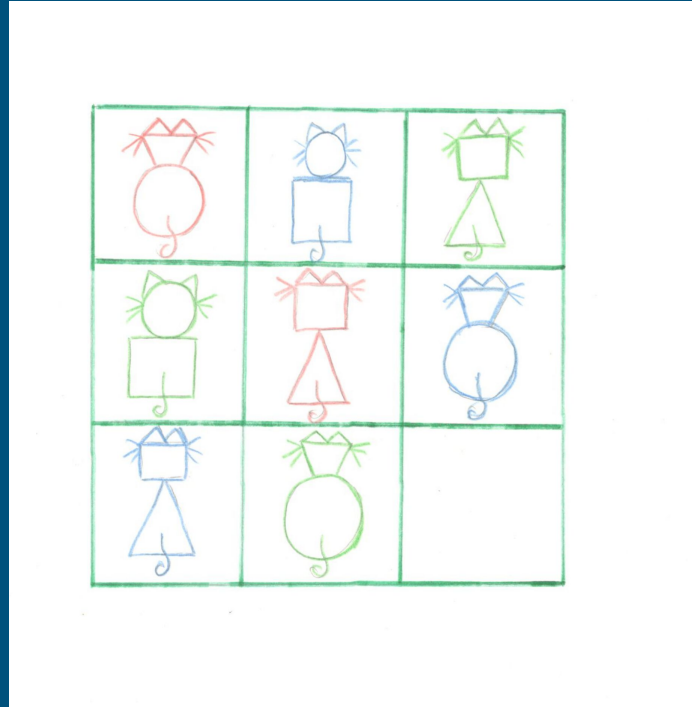


Головоломка № 6

Эту головоломку подготовил ученик 3 класса Степанов Егор.

Головоломка заключается в том, что вам необходимо дорисовать геометрического котика по аналогии.

Иллюстрация к головоломке № 6



Головоломка № 7

Эту головоломку подготовила ученица 3 класса Крылова София.

Головоломка заключается в том, что вам необходимо переставить 2 спички так, чтобы получилось верное равенство.

Иллюстрация к головоломке № 7

